

دفترچه سؤالات مرحله اول  
کد دفترچه: ۱

چهارمین المپیاد جغرافیا

| سال برگزاری | تعداد سؤالات | زمان پاسخ‌گویی |
|-------------|--------------|----------------|
| ۱۴۰۰        | ۵۰           | ۱۰۰ دقیقه      |

توضیحات مهم 

استفاده از ماشین حساب مجاز نیست.

۱. کد دفترچه‌ی سؤالات شما ۱ است. این کد را در محلّ مربوط روی پاسخ‌نامه با مداد پر کنید. در غیر این صورت پاسخ‌نامه‌ی شما تصحیح نخواهد شد.
- ۲- بلافاصله پس از آغاز آزمون، تعداد سؤالات داخل دفترچه و وجود همه‌ی برگه‌های دفترچه‌ی سؤالات را بررسی نمایید. در صورت وجود هر گونه نقصی در دفترچه، در اسرع وقت مسئول جلسه را مطلع کنید.
- ۳- یک برگ پاسخ‌نامه در اختیار شما قرار گرفته که مشخصات شما بر روی آن نوشته شده است. در صورت نادرست بودن آن، در اسرع وقت مسئول جلسه را مطلع کنید. ضمناً مشخصات خواسته شده در بالای پاسخ‌نامه را با مداد مشکی بنویسید.
- ۴- برگه‌ی پاسخ‌نامه را دستگاه تصحیح می‌کند، پس آن را تا نکنید و تمیز نگه دارید و به علاوه، پاسخ هر پرسش را با مداد مشکی نرم در محلّ مربوط علامت بزنید. لطفاً خانه‌ی مورد نظر را کاملاً سیاه کنید.
- ۵- پاسخ درست به هر سؤال ۳ نمره‌ی مثبت و پاسخ نادرست ۱ نمره‌ی منفی دارد.
- ۶- آزمون مخصوص دانش‌آموزان رشته‌های علوم انسانی و علوم و معارف اسلامی پایه‌های دهم و یازدهم است و شرکت‌کنندگان در دوره‌ی تابستانی از بین دانش‌آموزان دهم و یازدهم انتخاب می‌شوند.
- ۷- دفترچه باید همراه پاسخ‌نامه تحویل داده شود.



۱- همه موارد، عملکرد مثبت انسان در محیط را بیان می کنند، به جز:

- ۱) کاشت گونه های خشکی پسند در نواحی گرم و خشک
- ۲) احداث سازه های آبی در دامنه های کم شیب کوهستان های نواحی مرطوب
- ۳) توسعه سکونتگاه های شهری و روستایی در نقاط مرتفع نواحی گرم و خشک
- ۴) برگزاری مسابقات ورزشی در دامنه های کوهستانی نواحی مرطوب

۲- کدام گزینه دلیل مناسبی برای عبارت زیر نمی باشد؟

«حساسیت زیادی نسبت به مرزهای کشورمان وجود دارد و نظارت و مراقبت ویژه ای بر آنها اعمال می شود.»

- ۱) کشور ما حدود ۸۷۵۵ کیلومتر مرز مشترک با کشورهای همسایه دارد.
- ۲) مرزها بر روابط سیاسی کشورمان با کشورهای همسایه تأثیر می گذارند.
- ۳) مرزهای خارجی، مهم ترین عامل جدایی کشورمان از کشورهای همسایه هستند.
- ۴) طول مرزهای خشکی کشورمان نسبت به مرزهای دریایی بیشتر است.

۳- کدام گزینه با «ویژگی های دامنه جنوبی البرز» مطابقت بیشتری دارد؟

- ۱) شیب زیاد
- ۲) شدت بالای فرسایش رودخانه ای
- ۳) تراکم زید رسوبات آبرفتی
- ۴) سرعت بالای هوازدگی فیزیکی

۴- کدام گزینه از ویژگی های «دریاچه های فصلی» کشورمان است؟

- ۱) در دوره سرد سال، وسعت بیشتری پیدا می کنند.
- ۲) در طول سال، آب بعضی از آنها شور و برخی دیگر شیرین است.
- ۳) آب این دریاچه ها از طریق رودهای پر آب، تأمین می شود.
- ۴) گرم شدن عمومی هوا سبب تغییرات سطح آب آنها در فصل تابستان شده است.

۵- در صورت وجود رطوبت، احتمال تشکیل کدام ابر باران زا در محل تشکیل جبهه گرم، افزایش می یابد؟

- ۱) کومولونیمبوس
- ۲) نیمبواستراتوس
- ۳) استراتوس
- ۴) سیروس



محاسبات و نکته های مهم



۶- در کدام گزینه به ترتیب دلیل «شکل‌گیری کمربندهای فشار» و پیامد آن، به درستی نوشته شده است؟

(۱) تنوع دما و وزش بادهای (۲) اختلاف فشار و تغییرات آب و هوایی

(۳) دریافت نامساوی انرژی خورشید و گردش عمومی جو (۴) جابجایی توده‌های هوا و انحراف اجسام متحرک

۷- در کدام شرایط اقلیمی و تحت تأثیر کدام نوع هوازدگی، «فرآیند انحلال کانی‌های تشکیل‌دهنده سنگ‌ها»، شدت می‌یابد؟

(۱) گرم و مرطوب، شیمیایی (۲) گرم و خشک، فیزیکی (۳) معتدل و مرطوب، زیستی (۴) سرد و خشک، فیزیکی

۸- همه موارد از عوامل مؤثر در پیدایش «جلگه با هوکلات» است، به جز:

(۱) عمق آب (۲) مقاومت سنگ (۳) ساختمان زمین (۴) حرکات آب دریا

۹- چرا کشاورزی یک فعالیت بسیار مهم اقتصادی است؟

(۱) با استخراج و به دست آوردن مواد خام یا محصول از زمین یا دریا، سر و کار دارد.

(۲) امنیت غذایی از اهداف و برنامه‌های مهم همه کشورها محسوب می‌شود.

(۳) از گذشته‌های دور تا امروز، در زندگی بشر نقش زیادی داشته است.

(۴) در سطح جهان نسبت اشتغال مردم در این نوع فعالیت، افزایش یافته است.

۱۰- در کدام گزینه دلیل مناسبی برای عبارت زیر، نوشته شده است؟

«شرکت‌های چند ملیتی به سرمایه‌گذاری در کشورهای دیگر علاقه‌مند هستند.»

(۱) نقش مهمی در تجارت جهانی دارند. (۲) امتیازات زیادی به دست می‌آورند.

(۳) کالاها و خدمات تولید شده را به فروش می‌رسانند. (۴) کانون سلطه اقتصادی بر جهان هستند.

۱۱- همه موارد از ویژگی‌های «مگالاپلیس‌ها»، به شمار می‌آیند، به جز:

(الف) معمولاً در امتداد راه‌های ارتباطی شکل می‌گیرند.

(ب) از یک مادر شهر و چندین شهرک اقماری و حومه تشکیل شده‌اند.

(ج) در نتیجه پیوند خوردن حومه‌ها و شهرک‌های اقماری مادر شهرها، به یکدیگر به وجود آمده‌اند.

(د) بزرگ‌ترین و مهم‌ترین شهر در یک کشور به شمار می‌آیند.

(۱) الف و ب (۲) ب و د (۳) ج و د (۴) الف و ج

**محاسبات و نکته‌های مهم**





۱۲- همه موارد در ارتباط با «گسل‌های همگرا»، به درستی نوشته شده‌اند، به جز:

- (۱) با آزاد شدن انرژی، شروع به از هم گسیختگی می‌کنند.  
(۲) در محل آن‌ها، احتمال تشکیل جزایر آتشفشانی وجود دارد.  
(۳) در امتداد آن‌ها، جابجایی زمین روی می‌دهد.  
(۴) تداوم حرکت، موجب تجمع دوباره انرژی در آن‌ها می‌شود.

۱۳- همه موارد از نشانه‌های احتمالی وقوع زمین لرزه، در کشورمان هستند، به جز:

- (الف) تخلیه یکباره انرژی  
(ب) تغییر در ترکیب شیمیایی آب‌های زیرزمینی  
(ج) کاهش اندازه فاصله شکستگی‌های پوسته زمین  
(د) فشار بر لایه‌های پوسته زمین  
(۱) الف و ب (۲) ج و د (۳) ب و ج (۴) الف و د

۱۴- همه موارد از اهداف ایجاد «سدهای خشکه چین» به شمار می‌آیند، به جز:

- (۱) تغذیه مصنوعی سفره‌های آب زیرزمینی  
(۲) کنترل دبی رود  
(۳) مهار سیلاب‌های فصلی  
(۴) کنترل حجم آب حاصل از بارش

۱۵- در کدام عبارت، ترکیبات خاک با محدوده جغرافیایی مشخص شده، مطابقت دارد؟

- (۱) کمبود مواد معدنی - صفر درجه  
(۲) افزایش سدیم و پتاسیم - ۲۳ درجه  
(۳) افزایش مواد آلی - ۶۰ درجه  
(۴) کمبود گیاخاک - ۳۰ درجه

۱۶- همه موارد با علت «بحران ریزگردها» در برخی از مناطق غربی و جنوبی کشورمان، مطابقت دارند، به جز:

- (۱) گسترش سکونتگاه‌های شهری و روستایی  
(۲) بهره‌برداری از منابع آب زیرزمینی  
(۳) افزایش رشد طبیعی جمعیت  
(۴) استخراج معادن

۱۷- کدام گزینه مهم‌ترین «علت رویداد منتشر شده» از سوی «اتحادیه بین‌المللی حفاظت از طبیعت (IUCN)، در سال ۲۰۲۱ میلادی است؟

«وقوع آتش‌سوزی‌های گسترده در نقاط مختلف جهان ←← آتش‌سوزی در جنگل‌ها، نقاط مختلف جهان را فرا گرفته است.»

- (۱) وزش بادهای شدید  
(۲) تغییرات اقلیمی  
(۳) کاهش ریزش‌های جوی  
(۴) بحران ریزگردها

محاسبات و نکته‌های مهم





۱۸- کدام یک از گزینه‌های زیر مختصات جغرافیایی شهری را که روز اول دی ماه (هنگام ظهر) زاویه تابش خورشید در آنجا عمود بوده و سه ساعت و نیم دیرتر از لندن طلوع خورشید را دیده است، به درستی نشان می‌دهد؟

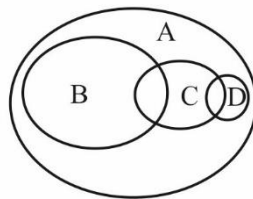
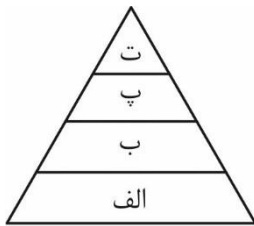
(۱)  $N 23,27$  و  $E 52,5$

(۲)  $S 23,27$  و  $W 52,5$

(۴)  $S 23,27$  و  $E 52,5$

(۳)  $N 23,27$  و  $W 52,5$

۱۹- شکل زیر حوزه نفوذ سکونتگاه‌ها را نشان می‌دهد بخش‌های A و D و C به ترتیب با کدام بخش از سلسله مراتب سکونتگاه‌ها مطابقت می‌کنند؟



(۱) ت و ب و پ

(۲) ت و الف و ب

(۳) الف و ت و ب

(۴) الف و ب و پ

۲۰- اگر برای احداث هر کیلومتر جاده در یک منطقه ۶ میلیون تومان لازم باشد، محاسبه نمایید، برای احداث مسیری با درصد انحراف ۱۲۵ و طول مسیر مستقیم ۳۰ کیلومتر، چقدر هزینه صرف می‌شود؟

(۴) ۲۲۵ میلیون

(۳) ۳۷٫۵ میلیون

(۲) ۲۲٫۵ میلیون

(۱) ۳۷۵ میلیون

۲۱- کدام عبارت با کاربرد سنجش از دور در مطالعات مخاطرات طبیعی مطابقت ندارد؟

(۱) تهیه دستورالعمل تعیین حریم فعالیت انسانی در اطراف رودخانه‌های سیل خیز

(۲) ثبت تغییرات دمایی در اطراف خطوط گسل‌های فعال و تعیین زمان وقوع زمین لرزه

(۳) اندازه‌گیری دقیق جابجایی مواد سطح دامنه‌ها و حرکت توده‌های لغزشی

(۴) تعیین جهت حرکت و زمان دقیق رسیدن توده‌های باران‌زا و هشدار رخداد سیل

۲۲- گزینه نادرست را مشخص کنید.

(۱) در ک زیست بوم بین میزان تولید خالص اولیه (NPP) و عرض جغرافیایی رابطه مستقیم وجود دارد.

(۲) انرژی دریافتی روزانه ۸۰۰ کالری در سانتی مربع، مربوط به مهم‌ترین ذخیره زیستی کره زمین است.

(۳) توزیع نامساوی زاویه تابش خورشید از عوامل مؤثر در تنوع زیست‌بوم‌ها است.

(۴) ناحیه‌ای که کمترین میزان (NPP) را دارد، برای ایجاد صنایع هوا فضا، مناسب‌ترین انتخاب است.

محاسبات و نکته‌های مهم






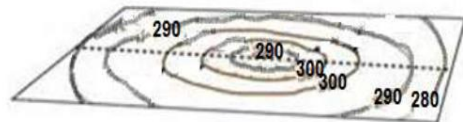
۲۳- کدام گزینه با فرآیند فرسایش طبیعی در بیابان مغایر است؟

- (۱) دامنه‌های پشت به باد یاردانگ‌ها پرشیب تراز دامنه رو به باد آن‌ها است.
- (۲) عمق چاله‌های بادی را سطح آب‌های زیرزمینی تعیین می‌کند.
- (۳) دو بازوی تپه‌های هلالی شکل، جهت وزش باد غالب را نشان می‌دهد.
- (۴) دشت‌های ریگی در نتیجه عملکرد باد در بیابان به وجود می‌آید.

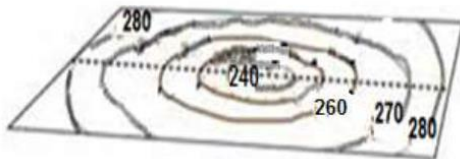
۲۴- کدام گزینه با عارضه تصویر شده مطابقت بیشتری دارد؟



(۲)



(۱)



(۴)



(۳)

۲۵- هوایمایی در ارتفاع ۴۳۳۰ متری بر فراز شهر یاسوج که ارتفاع آن ۱۸۳۰ متر از سطح دریا می‌باشد، در حال پرواز است، اگر

دمای هوا در خارج از هوایمیما ۵- درجه سانتی‌گراد باشد، کدام گزینه نمایانگر دمای هوای این شهر است؟

(۴) ۵

(۳) ۲۰

(۲) ۱۵

(۱) ۱۰

۲۶- کدام گزینه در خصوص مناطق کوهستانی ایران به درستی تدوین شده است؟

- (۱) فعالیت‌های آتشفشانی اواخر دوران سوم زمین‌شناسی سبب شکل‌گیری رشته کوه البرز شده است.
- (۲) ناهمواری‌های منطقه آذربایجان عمدتاً در دوره کواترنر تشکیل شده‌اند.
- (۳) قله دماوند پس از آخرین تحولات دوران سوم زمین‌شناسی در دوره کواترنر شکل گرفته است.
- (۴) گل‌فشان‌ها از زیباترین و فعال‌ترین پدیده‌های رشته کوه زاگرس هستند.

**محاسبات و نکته‌های مهم**





۲۷- با توجه به فعالیت‌های اقتصادی ایران کدام گزینه به درستی تدوین شده است؟

- (۱) تنوع اقلیمی، روند رو به رشد صنایع تبدیلی و وجود نیروی انسانی متخصص، سبب توسعه دامداری در کشور شده است.
- (۲) به دلیل کاهش منابع آبی کشور، توصیه می‌شود که محور توسعه کشاورزی از زراعت به دامداری تغییر یابد.
- (۳) تجارت الکترونیک، دارای مزایای کاهش هزینه‌ها و اطمینان طرفین معامله از اصالت یکدیگر، است.
- (۴) بعد از صنایع نفت و گاز، صنعت خودروسازی و پتروشیمی به ترتیب بزرگ‌ترین بخش صنعتی کشورمان هستند.

۲۸- با توجه به مقیاس نقشه اگر بخواهیم از سراب به بستان آباد برویم، چه مسافتی را باید طی کنیم؟



- (۱) ۷۰۰۰ متر      (۲) ۷۰ کیلومتر      (۳) ۳۵۰۰ متر      (۴) ۳۵ کیلومتر

۲۹- این متن با کدام گزینه ارتباط بیشتری دارد؟

«به احتمال زیاد اولین نقشه‌های جغرافیایی در اشکال بسیار ابتدایی مربوط به زمان‌هایی است که انسان‌های اولیه می‌زیسته‌اند. این نقشه‌ها که اغلب بر دیوار غارها ترسیم شده‌اند، مسیر حرکت شکارها، محل پایاب‌ها و غیره را نشان می‌دهند.»

- (۱) عمر علم جغرافیا با عمر انسان برابر است.
- (۲) در گذشته‌های دور علم جغرافیا کاربردی بوده است.
- (۳) عصر اکتشافات جغرافیایی سبب توسعه علم جغرافیا شده است.
- (۴) علم جغرافیا در قرون وسطی پیشرفت چشمگیری داشته است.



**محاسبات و نکته‌های مهم**



۳۰- کدام گزینه روند تقسیمات کشوری ایران را به درستی بیان می‌کند؟

ج



ب



الف



(۴) ب-ج-الف

(۳) ج-الف-ب

(۲) الف-ج-ب

(۱) ج-ب-الف

۳۱- همه موارد از میراث‌های طبیعی کشورمان به شمار می‌آیند، به جز:

(۴) دشت لوت

(۳) جلگه خوزستان

(۲) کوه دماوند

(۱) چشمه باداب سورت

۳۲- «این مردم سرشان را از ته می‌تراشند، با هیچ‌کس دست نمی‌دهند و پیوسته مشغول عبادتند این جا سرزمین پیروان بوداست که دارای مراسم خاصی برای عبادت می‌باشند.»

متن بالا که از خاطرات برادران امیدوار می‌باشد، به کدام ناحیه سیاسی ویژه اشاره دارد؟

(۴) ژاپن

(۳) چین

(۲) هند

(۱) تبت

۳۳- اگر در شهر الف که در ۹۰ درجه طول شرقی قرار دارد روز هشتم فوریه و ساعت ۱۱ صبح باشد، در شهر ب که در ۱۲۰ درجه طول غربی است، کدام گزینه زمان را به درستی نشان می‌دهد؟

(۲) هفتم فوریه - ۹ صبح

(۱) هفتم فوریه - ۹ شب

(۴) نهم فوریه - ۹ شب

(۳) نهم فوریه - ۹ صبح

۳۴- متن زیر نظریه کدام دانشمند ژئوپلیتیک را تایید می‌کند؟

«وقتی زیردریایی‌ها در آینده به صورت کشتی‌های زنده تجارتي فعالیت کنند، حوضه اقیانوس قطب شمال به یک دریای استراتژیک با تضمین‌های وسیع ژئوپلیتیکی در خواهد آمد.»

(۴) فردریک راتزل

(۳) ژاک تورگو

(۲) آلفرد ماهان

(۱) هلفورد مکیندر



محاسبات و نکته‌های مهم





۳۵- تصویر مقابل کدام پدیده جغرافیایی را نشان می‌دهد؟



(۱) طاق

(۲) کلوت

(۳) ستون سنگی

(۴) کندوی بادی

۳۶- کدام گزینه با «ارکان روستای پایدار» مغایرت دارد؟

(۲) تشکیل تعاونی‌های تولیدی روستایی

(۱) توسعه صنایع کوچک روستایی

(۴) توسعه تجهیزات و خدمات رفاهی

(۳) تغییر کاربری اراضی زراعی

۳۷- کدام گزینه با «تغییرات عملکردی» در روستاها مطابقت دارد؟

(۱) بوم‌گردشگری

(۲) تغییر در نوع مصالح ساختمانی و شکل خانه

(۳) راه‌سازی

(۴) برخورداری از امکاناتی نظیر آب و برق

۳۸- با توجه به مندرجات جدول زیر، چند سال طول می‌کشد تا جمعیت کشور فرضی دو برابر شود؟

| میزان موالید  | میزان مرگ و میر | کل جمعیت       |
|---------------|-----------------|----------------|
| ۱,۰۰۰,۰۰۰ نفر | ۲۰۰,۰۰۰ نفر     | ۴۰,۰۰۰,۰۰۰ نفر |

۲۵ (۴)

۴۰ (۳)

۱۰ (۲)

۳۵ (۱)



محاسبات و نکته‌های مهم



۳۹- کدام تصویر از نظر «روش‌های مدیریت پیش از وقوع سیل» با بقیه متفاوت است؟



ب



الف



د



ج

د (۴)

ج (۳)

ب (۲)

الف (۱)

۴۰- «در جنگ ژاپن و چین»، نقش کدام عامل جغرافیایی در قدرت ملی کشور چین غالب و برجسته بوده است؟

(۴) منابع معدنی

(۳) توپوگرافی

(۲) شکل

(۱) وسعت

۴۱- کدام گزینه با شکل سرزمینی کشور فیلیپین مغايرت دارد؟

(۲) نظارت مطلوب حکومت بر تمامی قسمت‌های کشور

(۱) دشواری ایجاد خطوط ارتباطی

(۴) محدودیت دسترسی سریع از مرکز به تمام نقاط آن

(۳) کاهش قابلیت دفاعی کشور

۴۲- همه گزینه‌ها در انتخاب «پایتخت» مؤثر هستند، به جز:

(۲) داشتن جمعیت قابل توجه

(۱) قرار داشتن در تقاطع راه‌های ارتباطی

(۴) مجاورت با مرزها

(۳) قابلیت محیطی مناسب



محاسبات و نکته‌های مهم



۴۳- محدوده مشخص شده (تیره رنگ) روی نقشه جزو کدام یک از نواحی فرهنگی عمده جهان محسوب می شود؟



(۱) اسلامی

(۲) غربی-اروپایی

(۳) اسلاو-ارتدوکس

(۴) جنوب و شرق آسیا

۴۴- «در صبح یک روز سرد پاییزی، در شهر الف که در چهار طرف آن شهر صنعتی واقع شده است، مه غلیظی جلوی دید رانندگان خودرو را گرفته است.»

کدام گزینه بیان کننده علت شکل گیری پدیده فوق است؟

(۲) افزایش رطوبت نسبی

(۱) جابجایی عمودی هوا

(۴) استقرار هوای گرم در سطح زمین

(۳) افزایش آلاینده ها

۴۵- سال ۲۰۱۸ در جنگ تجاری آمریکا و چین، هدف از اعمال سی و چهار میلیارد دلار تعرفه گمرکی بر واردات متقابل چینی و امریکایی چه بوده است؟

(۲) ایجاد منطقه آزاد تجاری

(۱) کاهش تأثیرات منفی تجارت خارجی

(۴) محدودیت واردات برخی کالاها

(۳) تشکیل اتحادیه های اقتصادی- تجاری

۴۶- همه گزینه ها از نتایج قابل پیش بینی هرم سنی کشور

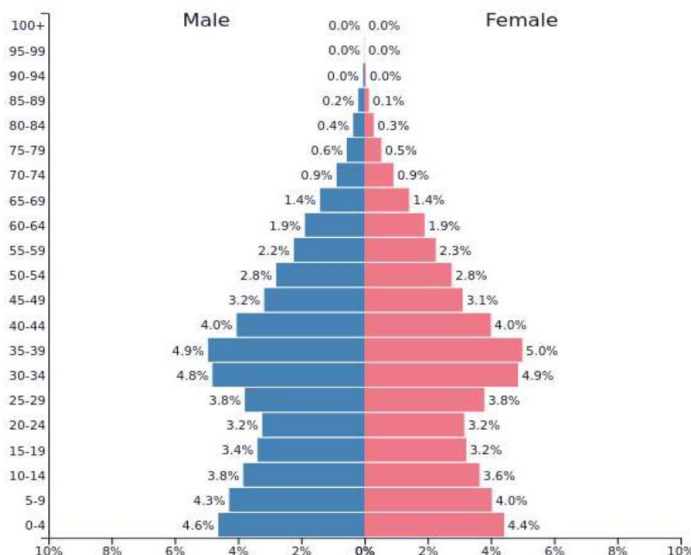
فرضی مقابل، در صورت ادامه روند کنونی است، به جز:

(۱) عدم تعادل نسبت جنسی و سنی

(۲) کاهش فعالان اقتصادی

(۳) افزایش تعداد جمعیت زیر ۱۵ سال

(۴) کاهش توان امنیتی و دفاعی



محاسبات و نکته های مهم



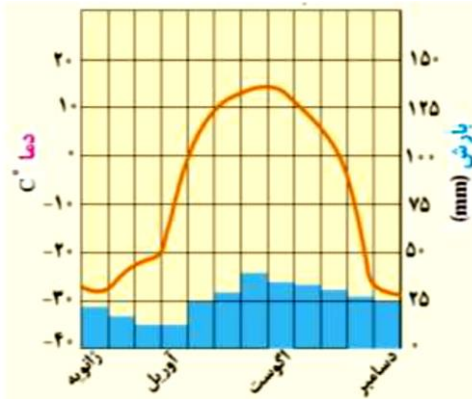
۴۷- «به نظر پژوهشگران جغرافیای پزشکی، یکی از عوامل مؤثر در به دنیا آمدن نوزادان ناقص الخلقه در دو روستای کوهستانی، مجاورت با معدن روی و کروم است.»

با توجه به گام‌های پژوهش عبارت فوق با کدام گزینه انطباق بیشتری دارد؟

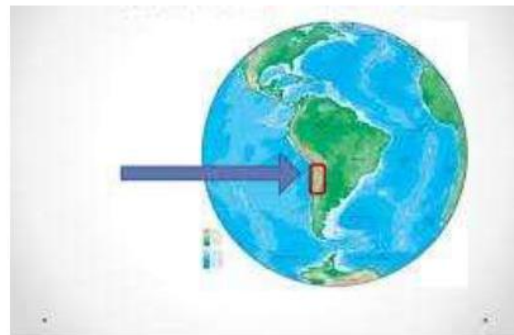
- (۱) طرح سؤال  
(۲) تدوین فرضیه  
(۳) جمع‌آوری اطلاعات  
(۴) پردازش اطلاعات

۴۸- کلیماتوگراف (اقلیم نگاشت) مقابل بر کدام «زیست‌بوم» منطبق است؟

- (۱) مراتع مدیترانه‌ای  
(۲) ساوان  
(۳) علفزارهای منطقه معتدل  
(۴) تایگا



۴۹- محدوده مشخص شده روی نقشه با کدام انرژی تجدیدپذیر مرتبط است؟



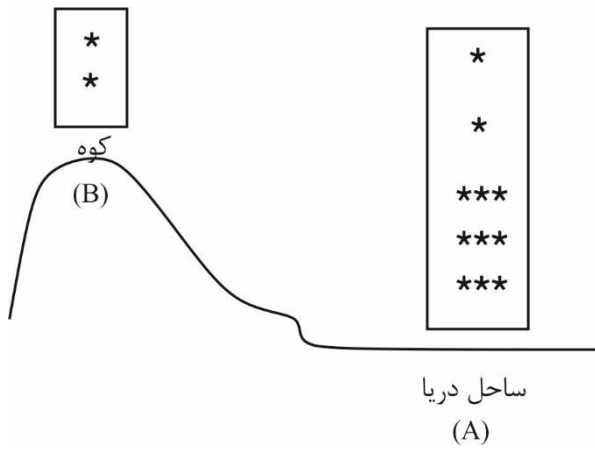
- (۱) زیست انرژی  
(۲) زمین گرمایی  
(۳) آبی  
(۴) خورشیدی



**محاسبات و نکته‌های مهم**



۵۰- «در یک روز گرم تابستانی دو گروه کوهنوری (A، B) در ساعت ۱۰ صبح در کمپ خود برای چای صبحانه آب را به جوش می آورند»



در کدام ناحیه آب زودتر به جوش می آید؟

کدام عوامل جغرافیایی در این امر تأثیرگذار هستند؟

(۱) A، فشار هوا بیشتر، دمای بیشتر

(۲) B، فشار هوا کمتر، جاذبه کمتر، دمای کمتر

(۳) A، فشار هوا بیشتر، جاذبه کمتر، دمای کمتر

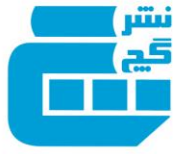
(۴) B، فشار هوا کمتر، جاذبه کمتر، دمای بیشتر



محاسبات و نکته های مهم



اگر این پاسخنامه برای به شما نیست، مسئول جلسه را آگاه کنید.



# کلید المپیاد جغرافیا

## مرحله اول ۱۴۰۰

غلط:

صحیح:

فقط یک گزینه درست را برای هر سؤال با مداد سیاه تکمیل کنید:

۱  ۱  ۲  ۳  ۴  ۵

۲  ۱  ۲  ۳  ۴  ۵

۳  ۱  ۲  ۳  ۴  ۵

۴  ۱  ۲  ۳  ۴  ۵

۵  ۱  ۲  ۳  ۴  ۵

۶  ۱  ۲  ۳  ۴  ۵

۷  ۱  ۲  ۳  ۴  ۵

۸  ۱  ۲  ۳  ۴  ۵

۹  ۱  ۲  ۳  ۴  ۵

۱۰  ۱  ۲  ۳  ۴  ۵

۳۱  ۱  ۲  ۳  ۴  ۵

۳۲  ۱  ۲  ۳  ۴  ۵

۳۳  ۱  ۲  ۳  ۴  ۵

۳۴  ۱  ۲  ۳  ۴  ۵

۳۵  ۱  ۲  ۳  ۴  ۵

۳۶  ۱  ۲  ۳  ۴  ۵

۳۷  ۱  ۲  ۳  ۴  ۵

۳۸  ۱  ۲  ۳  ۴  ۵

۳۹  ۱  ۲  ۳  ۴  ۵

۴۰  ۱  ۲  ۳  ۴  ۵

۶۱  ۱  ۲  ۳  ۴  ۵

۶۲  ۱  ۲  ۳  ۴  ۵

۶۳  ۱  ۲  ۳  ۴  ۵

۶۴  ۱  ۲  ۳  ۴  ۵

۶۵  ۱  ۲  ۳  ۴  ۵

۶۶  ۱  ۲  ۳  ۴  ۵

۶۷  ۱  ۲  ۳  ۴  ۵

۶۸  ۱  ۲  ۳  ۴  ۵

۶۹  ۱  ۲  ۳  ۴  ۵

۷۰  ۱  ۲  ۳  ۴  ۵

۹۱  ۱  ۲  ۳  ۴  ۵

۹۲  ۱  ۲  ۳  ۴  ۵

۹۳  ۱  ۲  ۳  ۴  ۵

۹۴  ۱  ۲  ۳  ۴  ۵

۹۵  ۱  ۲  ۳  ۴  ۵

۹۶  ۱  ۲  ۳  ۴  ۵

۹۷  ۱  ۲  ۳  ۴  ۵

۹۸  ۱  ۲  ۳  ۴  ۵

۹۹  ۱  ۲  ۳  ۴  ۵

۱۰۰  ۱  ۲  ۳  ۴  ۵

۱۱  ۱  ۲  ۳  ۴  ۵

۱۲  ۱  ۲  ۳  ۴  ۵

۱۳  ۱  ۲  ۳  ۴  ۵

۱۴  ۱  ۲  ۳  ۴  ۵

۱۵  ۱  ۲  ۳  ۴  ۵

۱۶  ۱  ۲  ۳  ۴  ۵

۱۷  ۱  ۲  ۳  ۴  ۵

۱۸  ۱  ۲  ۳  ۴  ۵

۱۹  ۱  ۲  ۳  ۴  ۵

۲۰  ۱  ۲  ۳  ۴  ۵

۴۱  ۱  ۲  ۳  ۴  ۵

۴۲  ۱  ۲  ۳  ۴  ۵

۴۳  ۱  ۲  ۳  ۴  ۵

۴۴  ۱  ۲  ۳  ۴  ۵

۴۵  ۱  ۲  ۳  ۴  ۵

۴۶  ۱  ۲  ۳  ۴  ۵

۴۷  ۱  ۲  ۳  ۴  ۵

۴۸  ۱  ۲  ۳  ۴  ۵

۴۹  ۱  ۲  ۳  ۴  ۵

۵۰  ۱  ۲  ۳  ۴  ۵

۷۱  ۱  ۲  ۳  ۴  ۵

۷۲  ۱  ۲  ۳  ۴  ۵

۷۳  ۱  ۲  ۳  ۴  ۵

۷۴  ۱  ۲  ۳  ۴  ۵

۷۵  ۱  ۲  ۳  ۴  ۵

۷۶  ۱  ۲  ۳  ۴  ۵

۷۷  ۱  ۲  ۳  ۴  ۵

۷۸  ۱  ۲  ۳  ۴  ۵

۷۹  ۱  ۲  ۳  ۴  ۵

۸۰  ۱  ۲  ۳  ۴  ۵

۱۰۱  ۱  ۲  ۳  ۴  ۵

۱۰۲  ۱  ۲  ۳  ۴  ۵

۱۰۳  ۱  ۲  ۳  ۴  ۵

۱۰۴  ۱  ۲  ۳  ۴  ۵

۱۰۵  ۱  ۲  ۳  ۴  ۵

۱۰۶  ۱  ۲  ۳  ۴  ۵

۱۰۷  ۱  ۲  ۳  ۴  ۵

۱۰۸  ۱  ۲  ۳  ۴  ۵

۱۰۹  ۱  ۲  ۳  ۴  ۵

۱۱۰  ۱  ۲  ۳  ۴  ۵

۲۱  ۱  ۲  ۳  ۴  ۵

۲۲  ۱  ۲  ۳  ۴  ۵

۲۳  ۱  ۲  ۳  ۴  ۵

۲۴  ۱  ۲  ۳  ۴  ۵

۲۵  ۱  ۲  ۳  ۴  ۵

۲۶  ۱  ۲  ۳  ۴  ۵

۲۷  ۱  ۲  ۳  ۴  ۵

۲۸  ۱  ۲  ۳  ۴  ۵

۲۹  ۱  ۲  ۳  ۴  ۵

۳۰  ۱  ۲  ۳  ۴  ۵

۵۱  ۱  ۲  ۳  ۴  ۵

۵۲  ۱  ۲  ۳  ۴  ۵

۵۳  ۱  ۲  ۳  ۴  ۵

۵۴  ۱  ۲  ۳  ۴  ۵

۵۵  ۱  ۲  ۳  ۴  ۵

۵۶  ۱  ۲  ۳  ۴  ۵

۵۷  ۱  ۲  ۳  ۴  ۵

۵۸  ۱  ۲  ۳  ۴  ۵

۵۹  ۱  ۲  ۳  ۴  ۵

۶۰  ۱  ۲  ۳  ۴  ۵

۸۱  ۱  ۲  ۳  ۴  ۵

۸۲  ۱  ۲  ۳  ۴  ۵

۸۳  ۱  ۲  ۳  ۴  ۵

۸۴  ۱  ۲  ۳  ۴  ۵

۸۵  ۱  ۲  ۳  ۴  ۵

۸۶  ۱  ۲  ۳  ۴  ۵

۸۷  ۱  ۲  ۳  ۴  ۵

۸۸  ۱  ۲  ۳  ۴  ۵

۸۹  ۱  ۲  ۳  ۴  ۵

۹۰  ۱  ۲  ۳  ۴  ۵

۱۱۱  ۱  ۲  ۳  ۴  ۵

۱۱۲  ۱  ۲  ۳  ۴  ۵

۱۱۳  ۱  ۲  ۳  ۴  ۵

۱۱۴  ۱  ۲  ۳  ۴  ۵

۱۱۵  ۱  ۲  ۳  ۴  ۵

۱۱۶  ۱  ۲  ۳  ۴  ۵

۱۱۷  ۱  ۲  ۳  ۴  ۵

۱۱۸  ۱  ۲  ۳  ۴  ۵

۱۱۹  ۱  ۲  ۳  ۴  ۵

۱۲۰  ۱  ۲  ۳  ۴  ۵

